

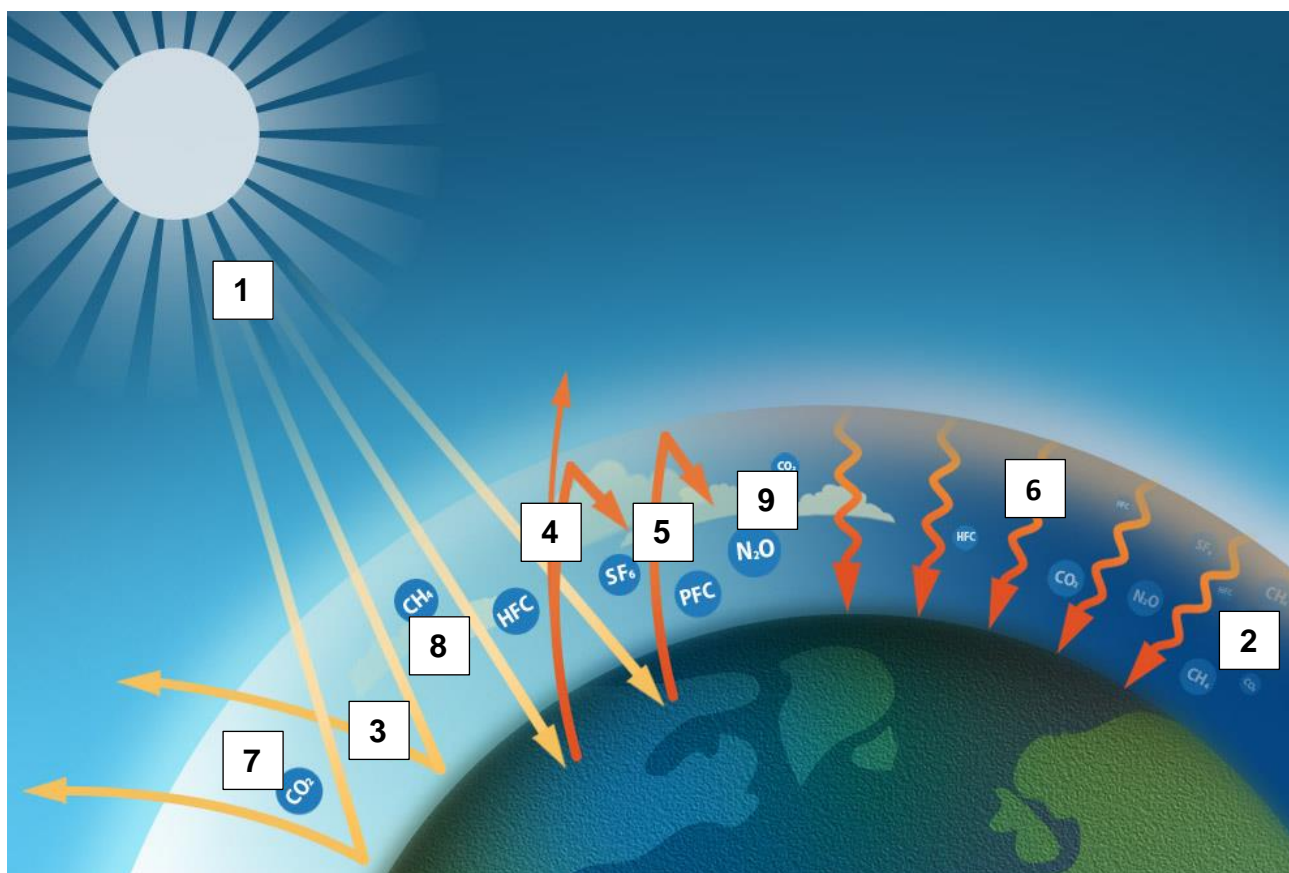
PIRMĀ ATLASES ANKETA

GAISS

1. Sameklē burtu režģī vārdus, kas saistās ar gaisa piesārņojumu, pieraksti tos!
Vārdi ir ► un ▼ virzienos (13p)

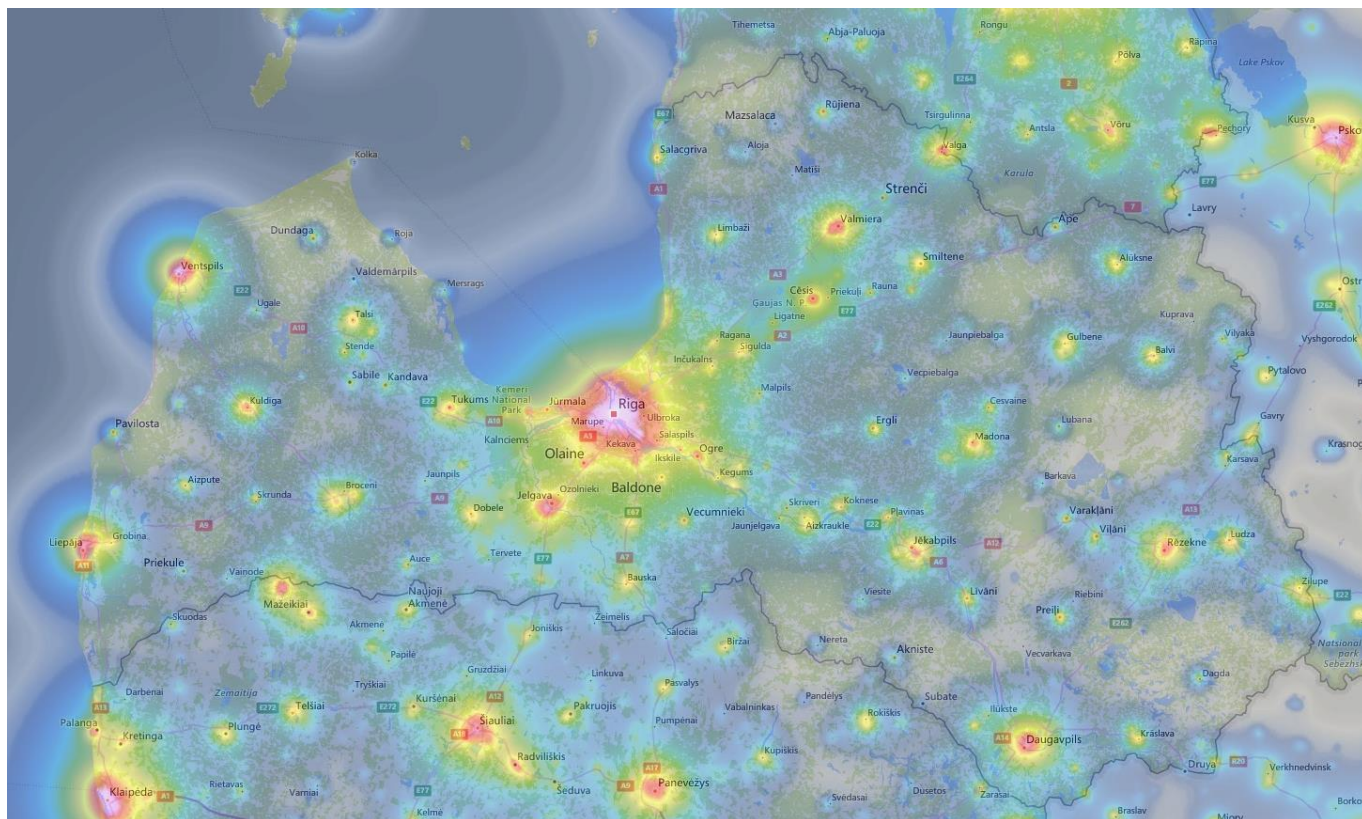
T	A	I	M	D	Ī	Ņ	B	Ļ	J	Z	Č	S	N	A	J	K	F	A
E	U	R	E	E	A	T	M	O	S	F	Ē	R	A	E	A	L	R	G
M	S	Z	Ž	G	Ķ	B	C	G	Z	S	R	Ū	F	A	I	Ā	P	L
T	A	E	S	V	I	N	S	L	I	Ņ	I	P	T	M	S	Ē	U	O
I	K	U	T	I	J	C	Ū	E	J	I	Č	N	A	B	P	V	T	S
S	R	A	O	E	Ģ	Ž	R	K	Ķ	S	K	Ī	Z	D	O	U	E	V
M	L	L	E	L	P	C	E	Ļ	I	G	A	C	I	L	V	Ē	K	I
O	I	P	Ē	A	S	M	I	A	Ū	H	V	A	U	V	V	Ī	Ļ	Ņ
G	P	E	S	T	I	C	Ī	D	I	D	A	S	A	Ē	L	K	I	Ņ
S	K	U	R	S	T	E	Ņ	I	K	Ū	S	L	S	J	Ž	L	T	A
A	E	D	I	Ū	N	S	Ž	O	S	M	Ē	Ķ	Ē	Š	A	N	A	F
H	H	A	C	Ņ	A	A	L	K	K	I	I	Ģ	D	Ī	Ū	S	T	G
Ņ	T	S	M	A	P	I	E	S	Ā	R	Ņ	O	J	U	M	S	K	T
Ī	P	G	Ā	Z	E	I	K	Ī	B	V	D	B	S	Z	S	Ē	R	S
Z	S	J	N	B	Ļ	Z	D	D	E	G	Š	A	N	A	K	S	I	R
P	I	L	I	E	N	I	S	S	K	B	S	K	I	Ī	Ē	A	T	I
D	I	K	R	S	O	K	V	I	L	S	A	J	K	Ž	K	J	U	S
L	J	R	S	T	Ī	V	A	Z	I	L	S	K	Ā	B	E	E	M	H
T	R	A	N	S	P	O	R	T	S	I	H	Ž	N	S	T	L	I	A

2. Shēmā ir attēlota siltumnīcas efekta rašanās un ietekme. Pie apgalvojumiem pierakstiet pareizo ciparu no shēmas! (9p)



	Daļa no Zemes izstarotā infrasarkanā starojuma tiek cauri siltumnīcas efekta gāzēm
	Gāze, kura nonāk atmosfērā atkrituma dedzināšanas, lauksaimniecības un lopkobības rezultātā
	Siltumnīcas efekta gāzes atrodas atmosfērā
	Zemes virsma tiek sasildīta un no tās izdalās infrasarkanais starojums, kuru, nonākot atmosfērā, uzkrāj siltumnīcas efekta gāzes
	Saule izstaro siltumu
	Gāze, kura nonāk atmosfērā, jo ogle, nafta vai gāze tiek izmantota enerģijas ražošanai
	Daļa uz zemes nonākušās siltumenerģijas atstarojas un nonāk kosmosā
	Siltumnīcas efekta gāzes sasilda planētu Zeme

3. Šajā Latvijas kartē ir attēlots viens no piesārņojuma veidiem, kuru vislabāk var pamanīt naktī! Atbildi uz jautājumiem (8p)



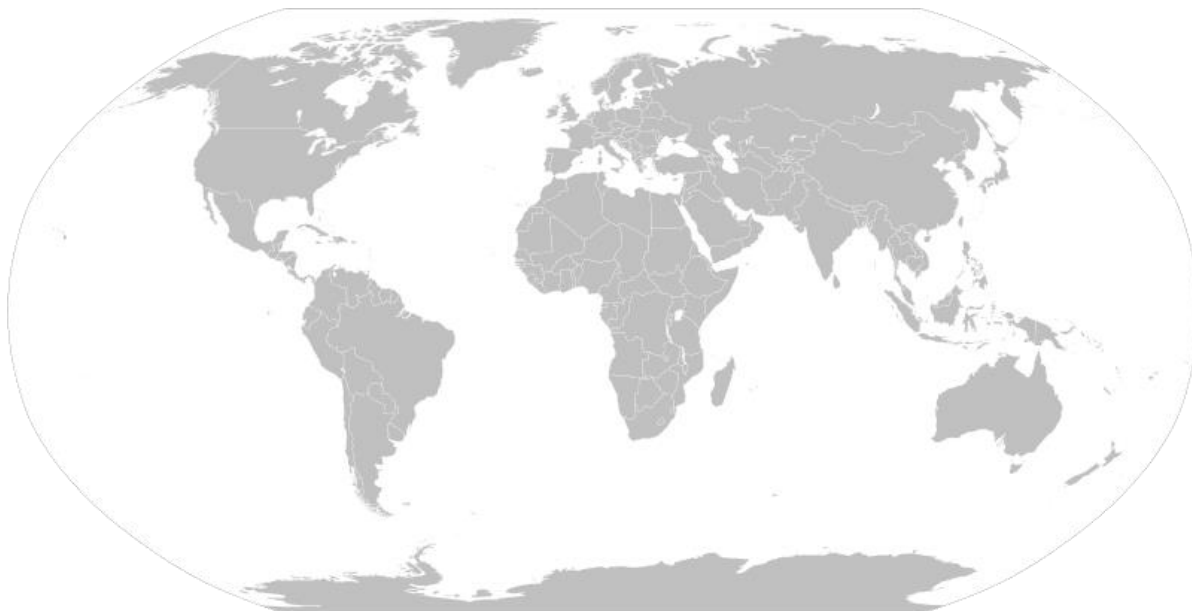
1. Kas šis ir par piesārņojumu? _____

2. Kas to rada? _____

3. Kurās trīs Latvijas vietās tas ir visizteiktākais? _____

4. Kāpēc tā ir problēma? _____

**4. Atzīmē kartē sešas valstis, kas rada visvairāk siltumnīcas efektu veicinošo gāzu!
Pieraksti klāt to nosaukumus! (12p)**



5. Izlasi apgalvojumus! Ar P apzīmē patiesos un ar M - melus! (9p)

	Govju atraugas un purkšķi ir viens no lielākajiem metāna gāzes piesārņojuma avotiem pasaulē
	Samazinoties gaisa temperatūrai, ogļskābās gāzes piesārņojums rada lapu dzeltēšanu
	Gaisa piesārņojums izraisa ziemeļblāzmas
	Vislielākais drauds Latvijā, saistībā ar klimata pārmaiņām, ir rūpniecība
	Freonu sadalīšanās laiks atmosfērā ir vairāk nekā 3000 gadi
	Tieši spoži vizuļojošie salūti ir lielākie oglekļa dioksīda piesārņotāji pasaulē
	Smogu veido tikai cementa un smilšu daļiņas gaisā
	Viens no lielākajiem vēja ģeneratoru parkiem Latvijā atrodas Liepājā
	Ozona slānis aizsargā zemi no ultravioletā starojuma

📌 ATBILŽU IESŪTĪŠANAS TERMIŅŠ NO 18. OKTOBRA LĪDZ 12. NOVEMBRIM.

ZIŅAS PAR DALĪBNIEKIEM

Komandas nosaukums: _____

Skola, klase: _____

Komandas kontaktinformācija:

E-pasts: _____

Telefona numurs: _____

Skolotājs, kontakti: _____