

# Alpi un Apenīni

1. Uzraksti organismu nosaukumus latviski un norādi, kādā vidē (dzīvotnē) tie ir sastopami. (18 p.)



*Calidris alpine*

Nosaukums:

---

Dzīvotne:

---



*Pinguicula alpina*

Nosaukums:

---

Dzīvotne:

---



*Hypericum montanum*

Nosaukums:

---

Dzīvotne:

---



*Ena montana*

Nosaukums:

---

Dzīvotne:

---



*Eremophila alpestris*

Nosaukums:

---

Dzīvotne:

---



*Ichthyosaura alpestris*

Nosaukums:

---

Dzīvotne:

---



*Bombus alpinus*

Nosaukums:

---

Dzīvotne:

---



*Ribes alpinum*

Nosaukums:

---

Dzīvotne:

---



*Passer montanus*

Nosaukums:

---


Dzīvotne:

---


2. Atzīmē kartē Apenīnu kalnu grēdas apkaimē izplatītos apskates objektus un pieraksti to nosaukumus latviski vai itāliski. (18 p.)



Augstākais cilvēku veidotais ūdenskritums pasaulē. To izveidoja senie romieši.



Īpatnējs Bronzas laikmeta cietoksnis/ciemaats Sardīnijā pie pilsētas *Barumini*.



Republika, kas atrodas kalna nogāzē Apenīnos. Attēlā redzams *Guaita*, viens no trim torņiem, kas redzami valsts karogā un ģerbonī.




Sena pilsēta, kas pēc Vezuva izvirduma tika noklāta ar 4 – 6 m biezu vulkānisko pelnu kārtu.



Apenīnu kalnu grēdas augstākā virsotne. Uz tās atrodas vienīgais grēdas ledājs, kas strauji kūst.



Ģeoloģisks veidojums, kas izeļas Ziemeļitālijas ainavā pie pilsētas *Castelnuovo ne' Monti*.



Tradicionālas no kaļķakmens veidotas mājas pilsētā *Alberobello*.



Augstākais aktīvais vulkāns Eiropā. Tā apkārtnē sastopamas endēmas augu un dzīvnieku sugas.



Aizsargājama dabas teritorija, kurā atrodas *Lago del Matese*, augstākais karsta ezers Itālijā.





### 3. Atbildi uz jautājumiem. (10 p.)

Kalnu vide ir ļoti daudzveidīga, reizēm tā var būt pat bīstama.

Kas ir lavīna? Kā tā veidojas? (2 p.)

---

---

Ar kādiem faktoriem vēl jārēķinās alpīnistiem un tūristiem, dodoties kalnos? Nosauc 1-3. (3 p.)

- \_\_\_\_\_
- \_\_\_\_\_
- \_\_\_\_\_

Kalni bieži vien ir populāri tūristu galamērķi ne tikai to unikālās dabas dēļ, bet arī tāpēc, ka tajos var nodarboties ar dažādām sportiskām aktivitātēm, piemēram, slēpošanu.

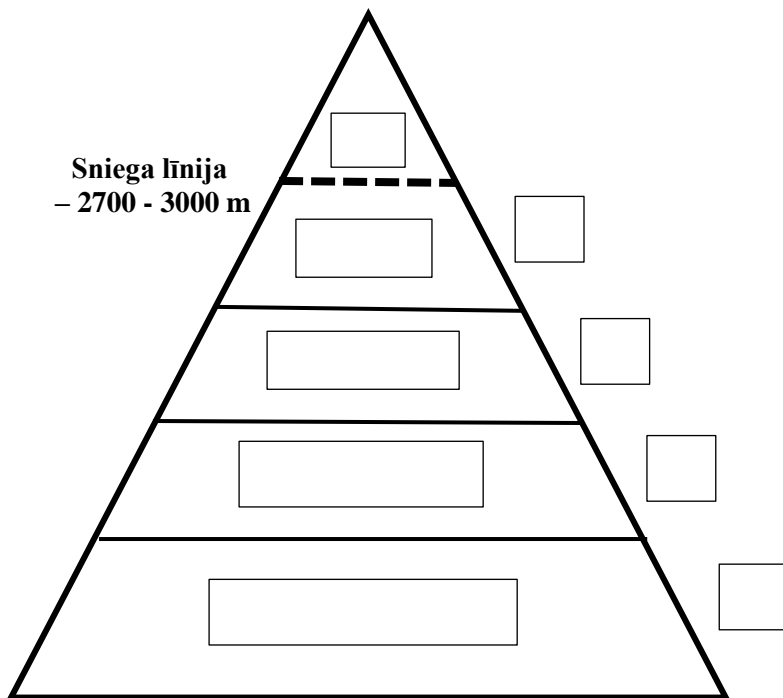
Kā tūrisms negatīvi ietekmē Alpu un Apenīnu vidi? Nosauc konkrētu piesārņojumu veidu vai citas ietekmes. (5 p.)



- \_\_\_\_\_
- \_\_\_\_\_
- \_\_\_\_\_

- \_\_\_\_\_
- \_\_\_\_\_

4. Jo augstāk kalnos dodamies, jo zemāka ir temperatūra un jo mazāk nokrišņu. Kalna diagrammā kvadrātos ar burtiem atzīmē, kurā dabas zonā dominē dotie organismi, un taisnstūros ar cipariem atzīmē, kurā zonā varētu būt sastopamas dotās sugas. Katrā zonā atzīmē vismaz vienu. (14 p.)



Organismi:

- a) Skujkoki
- b) Platlapji
- c) Sūnas un ķērpji
- d) Pļavu augi



1. *Capra ibex*




2. *Fagus sylvatica*



3. *Marmota marmota*



4. *Leontopodium nivale*



5. *Tichodroma muraria*



6. *Sorex alpinus*



7. *Saxifraga bryodes*



8. *Chladymonas nivialis*



9. *Pinus cembra*



10. *Parnassius apollo*




5. Savieno dotos valstu nosaukumus ar atbilstošajiem tautastērpiem, instrumentiem vai ēdieniem. Katrai valstij atbilst divi kultūras piemēri. (10 p.)

ŠVEICE



VĀCIJA



Fondue



Boudoirs

ITĀLIJA



Mezzelune

FRANCIJA

Nosauc pārējās valstis, kuru teritorijā ir Alpu kalnu grēda. (2 p.)

- 📌 **PAR ANKETAS KĀRTĪBU UN SALASĀMĪBU – 2 PAPILDU PUNKTI!**
- 📌 **ATBILŽU IESŪTĪŠANAS TERMIŅŠ NO 3. APRĪĻA LĪDZ 30. APRĪĻIM.**

### ZIŅAS PAR KOMANDU

Komandas nosaukums:

\_\_\_\_\_

Skola, klase: \_\_\_\_\_

Komandas kontaktinformācija (vēlams skolotāja):

E-pasts: \_\_\_\_\_

Telefona numurs: \_\_\_\_\_

**IESNIEDZOT ŠO ANKETU, ESMU IEPAZINĪES AR KONKURSA NOLIKUMU!**